

**Temat: Robimy zakupy. Czy wiemy ile kosztują różne produkty? (29.05.2020r)**

Witajcie,

Przez cały tydzień mówiliśmy o **REKLAMIE**, która kusi nas do robienia zakupów.

Jedni z nas poddają się tym namowom, inni, twardo kupują tylko to co postanowili i co jest im potrzebne.

My dzisiaj nie będziemy już mówili o zakupach, w kontekście, czy warto je robić. Dzisiaj trochę przeliczymy nasze zakupy☺

Zacniemy od tego, jak wyglądają polskie pieniądze.

A oto i one.



WYKONAJ ZADANIA WEDŁUG POLECENIA ☺ Przy niektórych zadaniach będą nam towarzyszyli nasi starzy znajomi: Ola i Adam ☺

KARTA 41

PRZECZYTAJ TEKST I WYKONAJ ZADANIE.

OLA ZDROWO SIĘ ODŻYWIA.

W SKLEPIE KUPUJE TYLKO ZDROWE PRODUKTY.

ZAZNACZ ✓ PRODUKTY, KTÓRE KUPIŁA OLA.

OBLICZ, ILE ZA NIE ZAPŁACIŁA.



3 Zł



2 Zł



2 Zł



3 Zł



2 Zł



4 Zł



5 Zł

OBLICZ:


$$\square \text{ Zł} + \square \text{ Zł} + \square \text{ Zł} + \square \text{ Zł} = \square \text{ Zł}$$

ODPOWIEDŹ: OLA ZAPŁACIŁA  Zł.




**KARTA 76. GROSZ DO GROSZA, A BĘDZIE KOKOSZA**


**1** Wytnij monety i wklej je w odpowiednie ramki.




**1 GR**  
**JEDEN GROSZ**




**2 GR**  
**DWA GROSZE**




**5 GR**  
**PIĘĆ GROSZY**



**10 GR**  
**DZIESIĘĆ GROSZY**



**20 GR**  
**DWADZIEŚCIA GROSZY**



**50 GR**  
**PIĘCDZIESIĄT GROSZY**

**2** Oblicz.



$$\square + \square = \square$$



$$\square + \square = \square$$



$$\square + \square = \square$$



$$\square + \square + \square = \square$$



**KARTA 76. GROSZ DO GROSZA, A BĘDZIE KOKOSZA**



$$\square + \square + \square + \square + \square + \square + \square + \square + \square + \square =$$
$$= \square$$



$$\square + \square = \square$$



$$\square + \square = \square$$



$$\square + \square + \square + \square + \square + \square + \square + \square + \square + \square =$$
$$= \square$$

**100 GROSZY TO 1 ZŁOTY**

**100 GR = 1 ZŁ**



KARTA 77. W SKLEPIE Z PIECZYWEM


1 Przyjrzyj się zdjęciom. Powiedz, co można kupić w piekarni.



2 Oblicz.


OLA I ADAM POSZLI DO PIEKARNI.

OLA KUPIŁA BUŁKĘ GRAHAMKĘ I ROGALA. ILE ZAPŁACIŁA OLA?

		<input type="text"/>	<input type="text"/>	<input type="text"/>	GR
	+	<input type="text"/>	<input type="text"/>	<input type="text"/>	GR
<hr/>					
		<input type="text"/>	<input type="text"/>	<input type="text"/>	GR

ODPOWIEŹ: OLA ZAPŁACIŁA ZA PIECZYWO  GR.

ADAM KUPIŁ KAJZERKĘ I BUŁKĘ MAŚLANĄ. ILE ZAPŁACIŁ ADAM?

		<input type="text"/>	<input type="text"/>	<input type="text"/>	GR
	+	<input type="text"/>	<input type="text"/>	<input type="text"/>	GR
<hr/>					
		<input type="text"/>	<input type="text"/>	<input type="text"/>	GR

ODPOWIEŹ: ADAM ZAPŁACIŁ ZA PIECZYWO  GR.

KARTA 33. LICZYMY JAJKA

1 Policz jaja w koszykach i wpisz.



$$\square + \square = \square$$



$$\square + \square + \square = \square$$



$$\square + \square + \square + \square = \square$$



$$\square + \square + \square + \square + \square = \square$$

TO ZADANIE JEST DLA CHĘTNYCH 😊 ALE WIERZĘ, ŻE NIEKTÓRZY Z WAS, SAMI SOBIE Z NIM PORADZĄ 😊

POWODZENIA 😊

**KARTA 45. ILE JAJEK ZEBRAŁA OLA?**

- 1 Ola pojechała do cioci i wujka na wieś. Pomagała zbierać jajka. Jajka układała w wytłaczankach. Ile jajek zebrała Ola? Policz i wpisz.



--	--



--

ODPOWIEDŹ: OLA ZEBRAŁA 

--

 JAJEK.

DZIESIĄTKI    JEDNOŚCI

+	
-----	



--	--



--

ODPOWIEDŹ: OLA ZEBRAŁA 

--


 JAJEK.

DZIESIĄTKI    JEDNOŚCI

+	
-----	



--	--



--

ODPOWIEDŹ: OLA ZEBRAŁA 

--

 JAJEK.

DZIESIĄTKI    JEDNOŚCI

+	
-----	



## ZAKUPY NA WEEKEND ZROBIONE, WIĘC CZAS NA KAWĘ I DESER ☺

### KARTA 49


- 1 Przyjrzyj się menu i zobacz, ile kosztują napoje i desery.
- 2 Oblicz, ile pieniędzy jest w każdej ramce, i wpisz sumę.
- 3 Połącz desery i napoje z odpowiednimi cenami.



=



=



=



=



=



=



=