

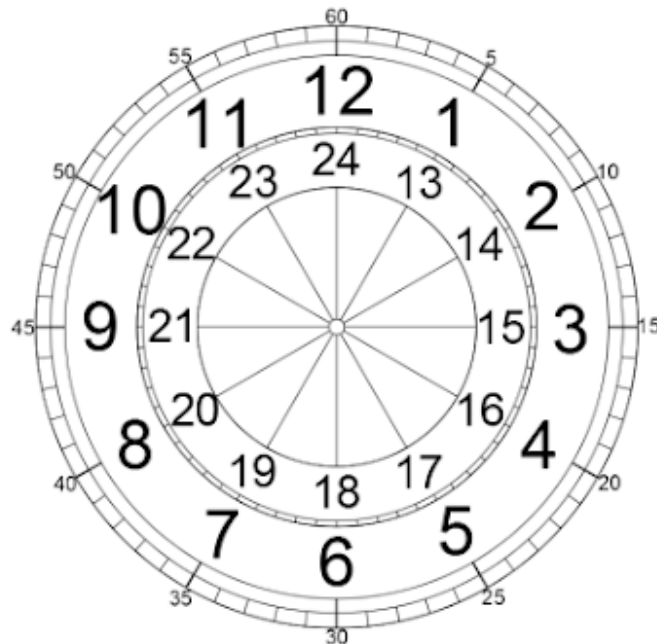
**Temat: Czas- co to takiego? Czy umiem go przeliczyć i odczytać? (05.06.2020r)**

Witajcie,

Dzisiaj przypomnimy sobie odczytywanie godzin na tradycyjnym zegarze. Wiem, że cały czas niektórym z Was sprawia to jeszcze problem, dlatego poćwiczmy.

Poniżej znajdują się dwie tarcze, na których umieszczone są nazwy pełnych godzin. Od 1-12 to godziny nocne i ranne, te od 13-24 to godziny popołudniowe i wieczorne.

Na zewnątrz tarczy umieszczone są minuty. Dokładnie przyjrzyj się tarczy, ponieważ zaraz będzie Ci to potrzebne.



Poniżej znajduje się kilka zadań.

Zadanie 1.

Pierwsze polega na tym, że należy odczytać pełne godziny na każdym z zegarów i zapisać ją pod tarczą zegara.



1:00

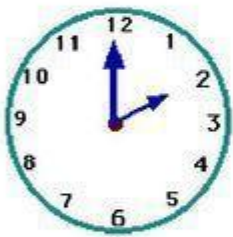
\_\_\_\_\_



\_\_\_\_\_



\_\_\_\_\_



\_\_\_\_\_



\_\_\_\_\_



\_\_\_\_\_



\_\_\_\_\_



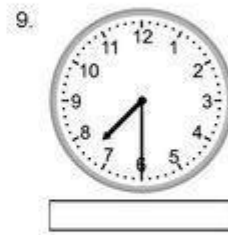

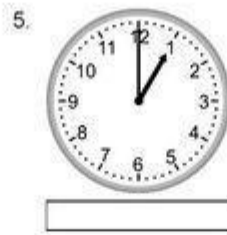
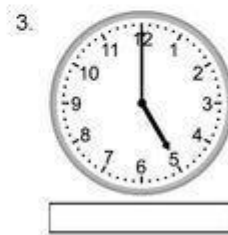
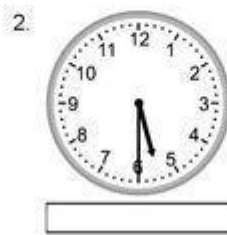

\_\_\_\_\_



\_\_\_\_\_


Zadanie 2.

Odczytaj i zapisz pod tarczami odpowiednie godziny.



Zadanie 3.

Odczytaj godziny na zegarach.



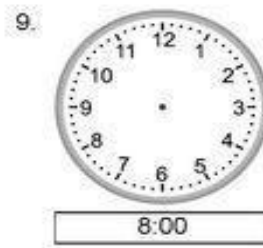
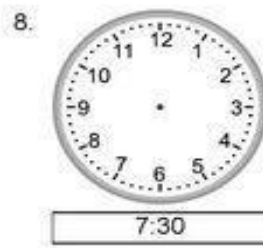
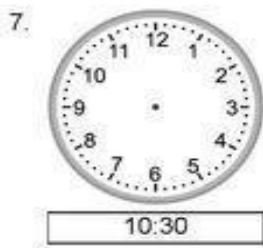
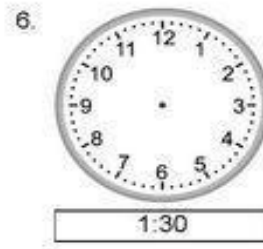
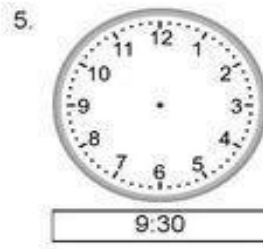

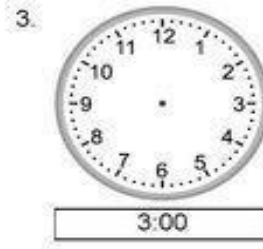
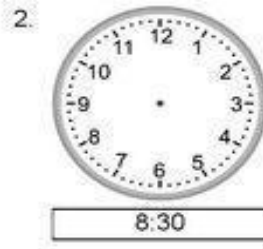
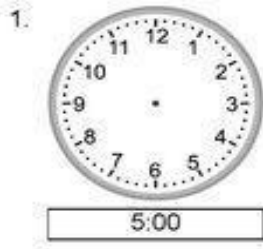
Zadanie 4.

Odczytaj godziny na tarczach zegarów i zapisz pod nimi.




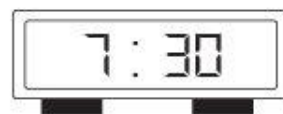
Zadanie 5.

Poniżej tarcz zegarów znajdują się godziny. Odczytaj je i dorysuj wskazówki tak, aby wskazywały właściwą godzinę.



Zadanie 6.

Masz poniżej podane te same godziny na tarczy (klasycznie) i w wersji elektronicznej. Połącz ze sobą tarcze, które wskazują te same godziny.



Zadanie 7.

Zaznacz za pomocą wskazówek godziny na tarczach zegarów.



NAUCZYCIELSKIE ZACISZE

♥ Czas na zegar! Przygotuj własne karty do gry Memory. Uzupełnij zegary, wytnij karty i graj 😊

www.nauczycielskiezacisze.pl

10:30	1:45	3:20
5:55	6:10	7:35



