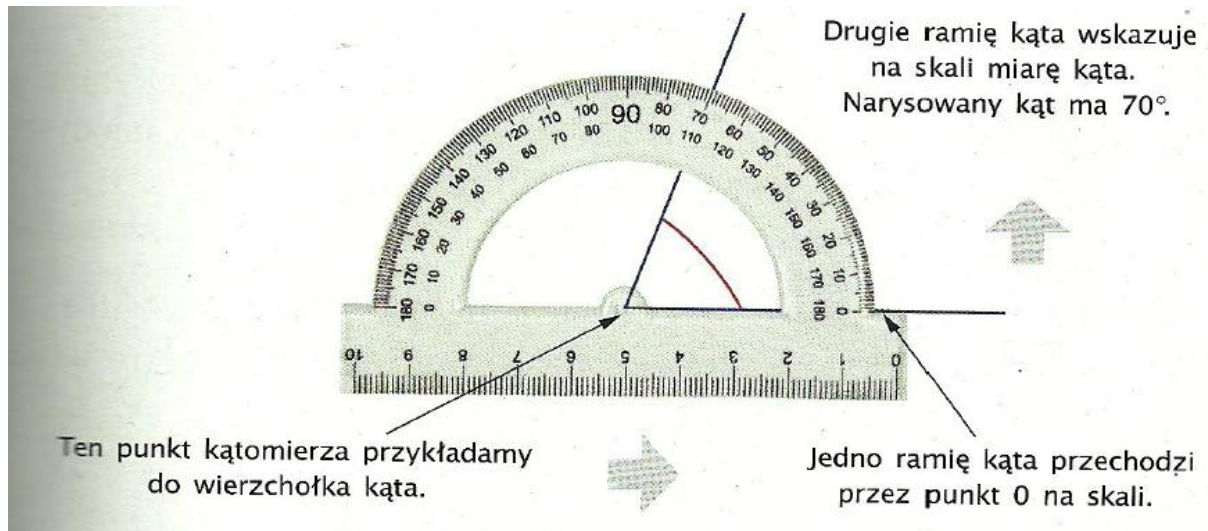


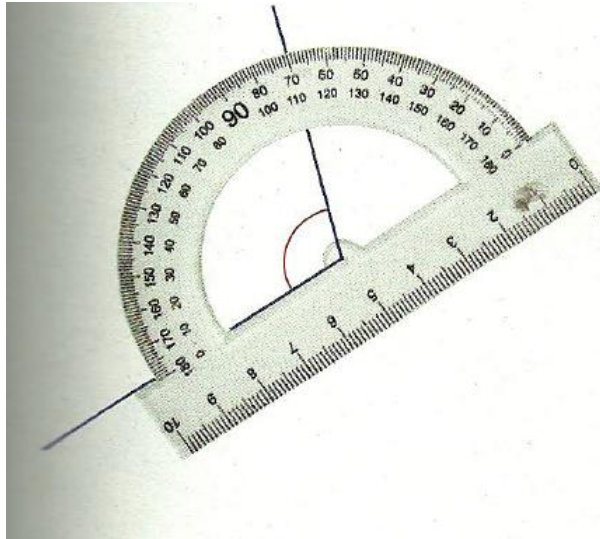
**Temat: Mierzenie kątów. – 27.04.2020 r**

Na poprzednich lekcjach poznaliśmy kąty proste, ostre, rozwarte, półpełne i pełne. Czasami zachodzi potrzeba dokładniejszego określenia wielkości kąta.

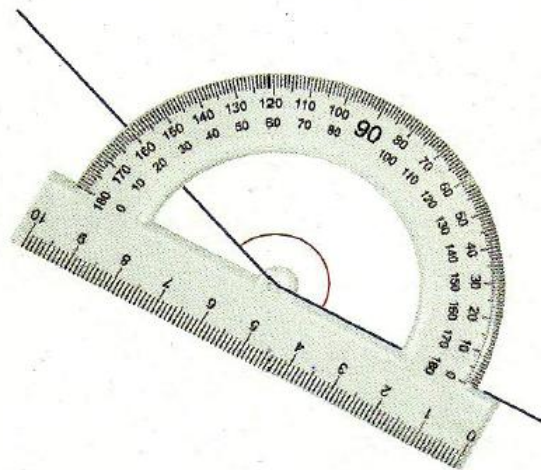
Do mierzenia kątów, czyli określania, ile mają stopni, służy **kątomierz**. Na rysunku poniżej pokazano w jaki sposób przykładamy kątomierz, aby podać miarę kąta.



Na kątomierzach są najczęściej dwie skale. Gdy mierzymy kąt, korzystamy z jednej skali lub z drugiej. Odczytaj miary poniższych kątów.


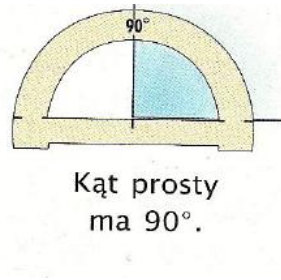



Ten kąt ma miarę .....

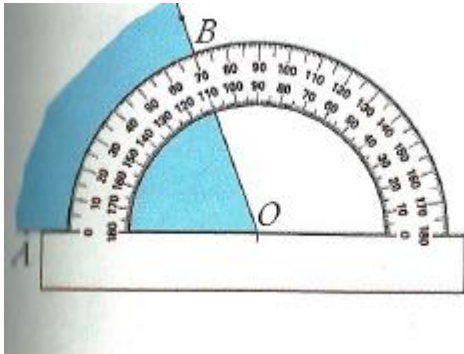


Ten kąt ma miarę .....

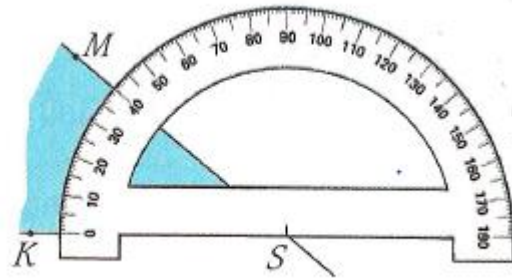
Jeżeli znamy miarę kąta, to możemy stwierdzić, czy ten kąt jest prosty, ostry, rozwarty czy półpełny.



Odczytaj i wpisz miarę kąta.



Miara kąta wynosi .....

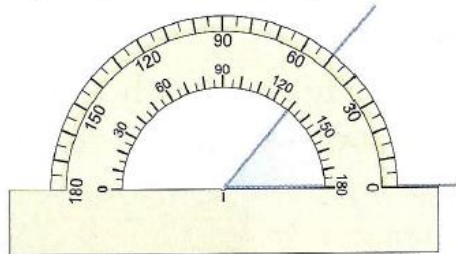


Miara kąta wynosi .....

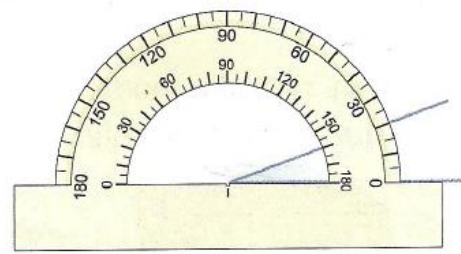


## Mierzenie kątów

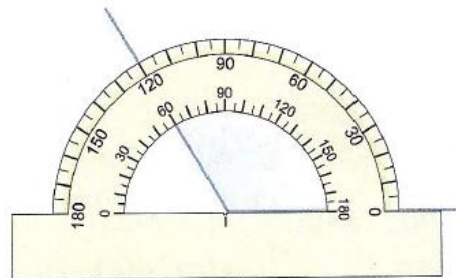
1. Odczytaj i wpisz miarę kąta oraz zapisz, jaki to kąt.



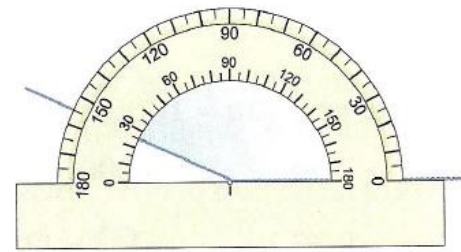
$50^\circ$  - kąt ostry



..... - .....



..... - .....



..... - .....

Skorzystaj z rysunków powyżej – 4 kątomierze.

Termin realizacji: 27.04.2020 r

Powodzenia.

