

Temat: Mierzenie kątów. 28.04.2020 r.

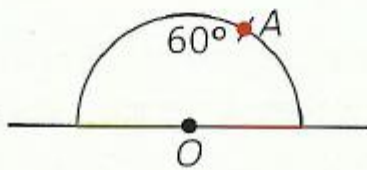
1. Narysuj kąt o mierze 60° .

Rozwiązanie

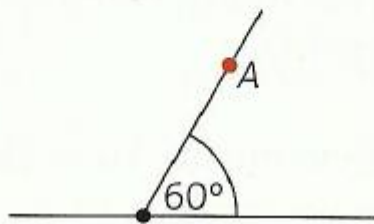
Narysuj prostą i zaznacz na niej punkt O .



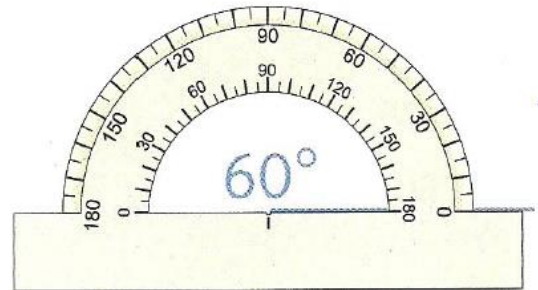
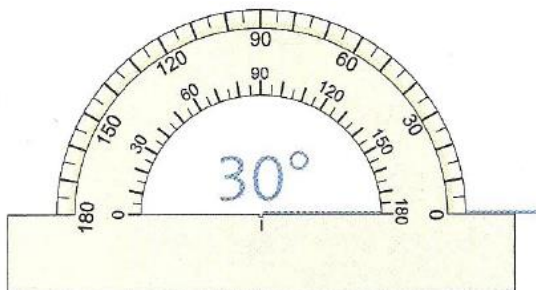
Do prostej przyłóż kątomierz i zaznacz punkt A , w którym podziałka kątomierza wskazuje 60.

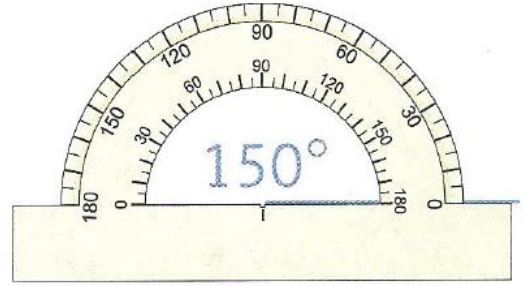
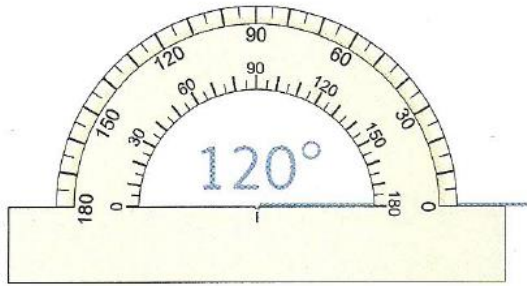


Od punktu O poprowadź półprostą przechodzącą przez punkt A .



2. Korzystając z narysowanych kątomierzy, dorysuj brakujące ramię kąta tak, aby otrzymać kąty o podanych miarach.





3. Str. 44. zad. 1.- zeszyt ćwiczeń.

- Pod rysunkami wpisz, ile stopni mają narysowane kąty.

4. Str.44. zad. 2- zeszyt ćwiczeń.

- Czy dzieci dobrze odczytały miary kątów? Wpisz tak lub nie.

5. Zad. domowe. Str. 44. zad. 3 – zeszyt ćwiczeń.

Termin realizacji: 28.04.2020 r

Powodzenia.