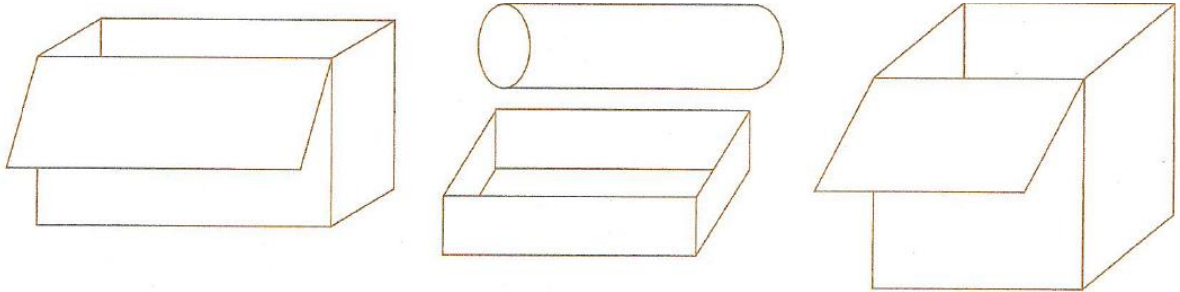


Temat: Prostopadłościan- powtórzenie. 25.06.2020 r

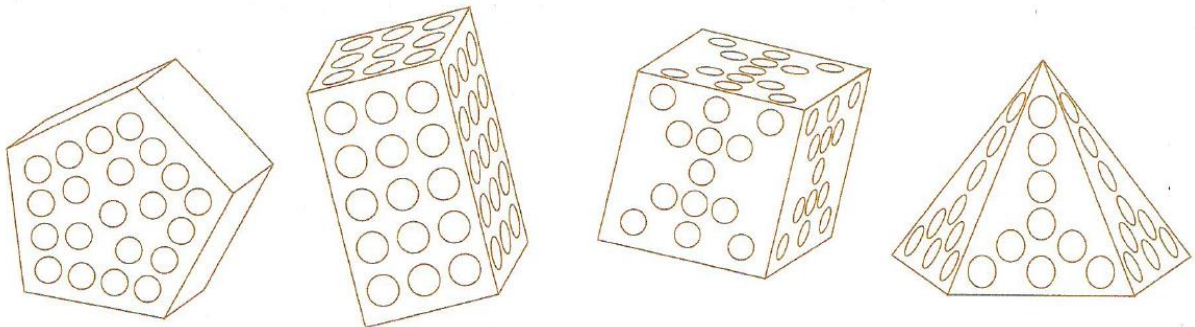
Zad. 1.

Pokoloruj lub wskaż to pudełko, które ma wszystkie ściany równe.



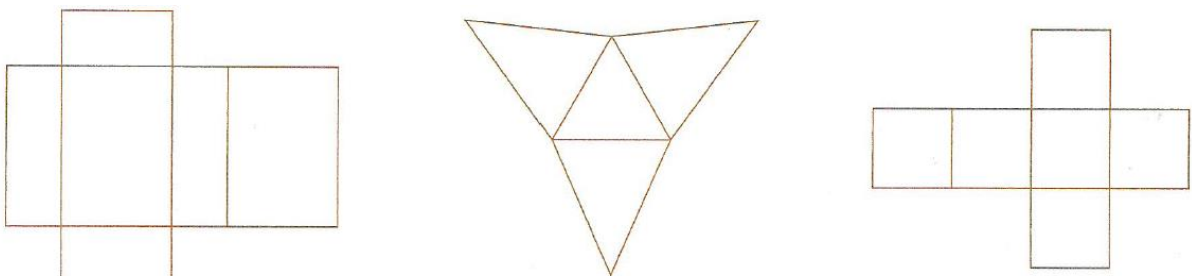
Zad.2.

Pokoloruj tę bryłę, której wszystkie ściany są kwadratami.



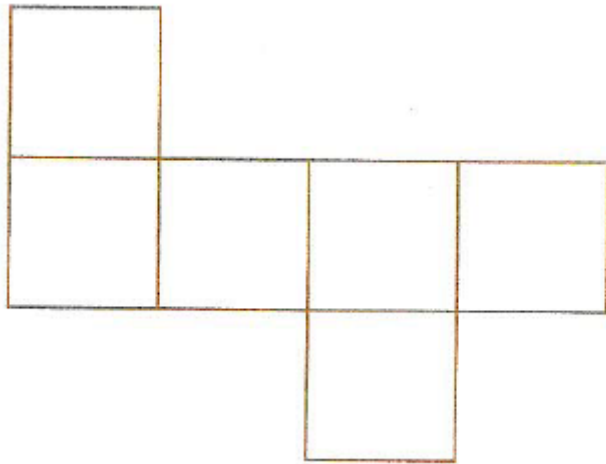
Zad. 3.

Magda rozcięła trzy tekturowe pudełka. Otrzymała różne figury. Która z nich powstała z sześciangu? Pokoloruj ją.




Zad. 4

Pomaluj trzema kolorami kwadraty siatki tak, aby po sklejeniu sześciang miał ściany leżące naprzeciwko siebie tego samego koloru.



Zad. 5.

Zamaluj poniżej te figury, z których można zbudować sześcian.



Życzę Wam słonecznych, bezpiecznych wakacji. Spotkamy się we wrześniu. Powodzenia.