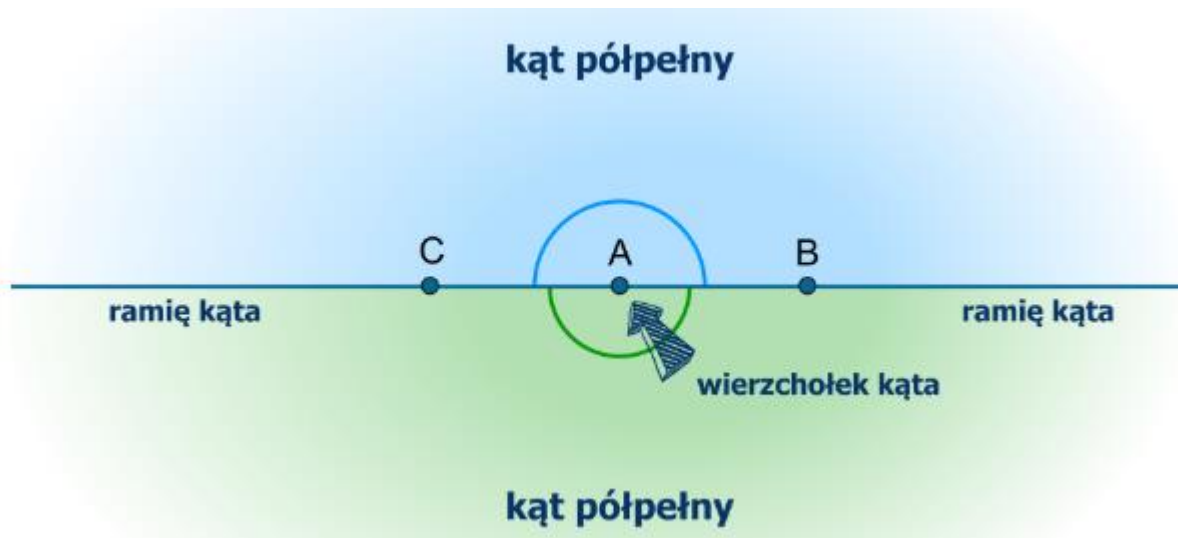


Temat: **Rodzaje kątów.** ( 6. 04 2020 r)

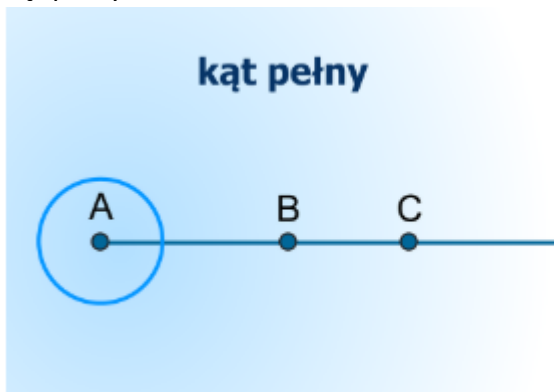
Na poprzedniej lekcji poznaliśmy kąty : proste, ostre i rozwarte. Na dzisiejszej zapoznamy się z następnymi kątami: kątem półpełnym, kątem pełnym, kątem wklęsłym.

1. Kąt półpełny:

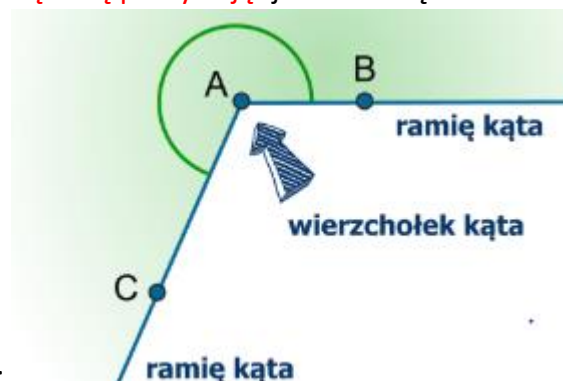
Ramiona tego kąta tworzą prostą.



2. Kąt pełny:



Ramiona tego kąta się pokrywają- jedno ramię nachodzi na drugie.



3. Kąt wklęsły:

Ramiona tego kąta są większe od kąta półpełnego i mniejsze od kąta pełnego.  
Przerysuj do zeszytu kąty wraz z oznaczeniami.

4. Otwórz ćwiczenia str.43 zad. 1

Pokoloruj na **czzerwono** kąty ostre, na **zielono** kąty proste, a na **żółto** kąty rozwarte.  
Jeśli to ćwiczenie sprawi Ci trudność, przypomnij sobie wiadomości z poprzedniej lekcji- rysunki lub rysunki w podręczniku str.125.

5. Wykonaj zad. 2 str.43 .

W tym zadaniu postępujemy podobnie. Zwróć uwagę na to, że figury mają po kilka kątów. Skorzystaj z rysunków z poprzedniej i dzisiejszej lekcji lub z rysunków w podręczniku- str.125-126.

**Termin realizacji: 6.04.2020 r**

Jeśli jest to możliwe, proszę o przesłanie wykonanych zadań: 1,2 w formie zdjęć.  
Podaję adres: [elzbieta.szymkowiak@zss-wrzesnia.pl](mailto:elzbieta.szymkowiak@zss-wrzesnia.pl)

**Powodzenia!**