

Geografia

Witam Was serdecznie na kolejnej lekcji geografii.

[**KOMENTARZ** – zawsze będzie pisany przeze mnie na niebiesko, tego do zeszytu **NIE** przepisujecie, ale uważnie **PRZECZYTAJCIE!**

Podczas naszych ostatnich zajęć poznawaliśmy atrakcje turystyczne południowych sąsiadów Polski Czech i Słowacji.

Oto informacje, które należy zapamiętać:

CZECHY		SŁOWACJA	
Walory przyrodnicze	Walory kulturowe	Walory przyrodnicze	Walory kulturowe
- skalne miasto - jaskinie w Czeskim Raju	- Praga – stolica Czech, przez wielu uznawana za jedno z najpiękniejszych miast w Europie - zamek w Czeskim Krumlowie	- góry Karpaty-umożliwiają rozwój turystyki aktywnej: wędrowki po górach, sporty zimowe np. narciarstwo, snowboard - jaskinie krasowe np. Dobszyńska Jaskinia - baseny z wodami termalnymi	- Zamek Spiski koło Lewoczy-największe zamkowe ruiny w środkowej Europie - Twardoszyn – znajduje się XV-wieczny drewniany kościół

Kolejne dwie godziny geografii poświęcimy naszym wschodnim sąsiadom: Litwie oraz Białorusi. Dowiedziecie się jakie są walory kulturowe i przyrodnicze obu krajów; nauczycie się wskazywać na mapie największe miasta Litwy i Białorusi.

Zatem do pracy!

WTOREK - 19.05.2020

1. Na mapie politycznej Europy-podręcznik strona 48 **wskażcie** Litwę i stolicę Wilno oraz Białoruś i stolicę Mińsk. Gdybyśmy spojrzeli na mapę Europy z końca lat 80.XX wieku, to okazałoby się, że nie ma na niej takich państw. Powstały one dopiero w 1991 roku, gdy rozpadł się kraj o nazwie Związek Radziecki.

2. Otwórzcie podręczniki na stronie 145- mapa Litwy. **Wskażcie na niej:**

A. Morze Bałtyckie i Mierzeję Kurońską – Litwa ma niewielki kawałek wybrzeża morskiego, ale z pięknym krajobrazem Mierzei Kurońskiej –zdjęcie na stronie 147. Litwa jak widać po kolorze zielonym, jest krajem nizinnym;

B. miasta:

- Kłajpeda – to największe miasto portowe Litwy;

- Wilno- to tutaj znajduje się Słynny obraz Matki Boskiej Ostrobramskiej- zdjęcie, strona 150 w podręczniku. Stare Miasto Wilna zostało wpisane na „Listę światowego dziedzictwa UNESCO”. Splatają się w nim pamiątki wielu kultur – litewskiej, polskiej, żydowskiej i niemieckiej. Nad Wilnem, na niewielkim wzniesieniu stoi baszta zamku dawnego władcy Giedymina-zdjęcie na stronie 150. W Wilnie co cztery lata odbywa się Litewski Festiwal Piosenki-zdjęcie na stronie 149

- Troki -zdjęcie na stronie 150;

- Kowno;

C. rzekę Niemen, która uchodzi do Morza Bałtyckiego – zdjęcie na stronie 148.

3. Otwórzcie podręczniki na stronie 146 – mapa Białorusi. Białoruś nie ma dostępu do żadnego morza; tak jak Litwa jest krajem nizinnym. W jej środkowej części znajduje się pas terenów wyżynnych - WYŻYNA BIAŁORUSKA. Znaczną część Białorusi zajmują bagna – zdjęcie na stronie 147. **Wskażcie na niej** miasta:

- Grodno – zdjęcie na stronie 149, w tym mieście mieszka podobnie jak w stolicy Białorusi – Mińsku, dużo Polaków;

- Mir oraz Nieśwież – zdjęcia na stronie 150 – podziwiać można zespoły zamkowe.

4. Co jeszcze warto wiedzieć o obu tych krajach?

LITWA	BIAŁORUŚ
<ul style="list-style-type: none"> - klimat podobny jak w Polsce; - jest członkiem Unii Europejskiej; - waluta – euro; - występują liczne źródła wód mineralnych, dzięki którym powstały uzdrowiska i parki wodne (np. Druskienniki – zdjęcie na stronie 148); 	<ul style="list-style-type: none"> - lata cieplejsze niż w Polsce; zimy zaś mroźniejsze; - na pograniczu polsko – białoruskim rośnie Puszcza białowieska, której symbolem są żyjące w niej żubry;
<ul style="list-style-type: none"> - oprócz bagien , krajobraz obu tych państw urozmaicają jeziora polodowcowe oraz głązy pozostawione przez lądolód; - w obu tych krajach zmniejsza się liczba ludności z powodu wyjazdów w celach zarobkowych do krajów Europy Zachodniej oraz z powodu małej liczby urodzeń w stosunku do zgonów; - oba kraje mają gęstą sieć rzek. Płyną one powoli i spokojnie, są połączone licznymi kanałami, co sprzyja rozwojowi aktywnej turystyki np. kajakarstwo; <p>- Białoruś, Litwa i Polska przez wieki tworzyły jedno państwo. Na Litwie i Białorusi żyło i tworzyło wielu polskich artystów m.in. Adam Mickiewicz, który w epopei „Pan Tadeusz” opisywał tamtejsze malownicze krajobrazy, podobnie jak Eliza Orzeszkowa w powieści „Nad Niemnem”</p>	

WTOREK - 26.05.2020

I. Wykonamy wspólnie następujące ćwiczenia w ramach utrwalenia wiadomości o Litwie i Białorusi z poprzedniego tygodnia:

- Ćw.1/89 w zeszytcie ćwiczeń:

Informacja	Litwa	Białoruś
A.	X	X
B.		X
C.	X	
D.	X	X
E.	X	
F.	X	

- Ćw.2/89 w zeszytcie ćwiczeń:

L-Ostra Brama w Wilnie B-zamek w Mirze B- Mierzeja Kurońska

II. Zapisz w zeszytcie przedmiotowym z geografii temat lekcji wraz z notatką:

TEMAT: Walory środowiska przyrodniczego i kulturowego Litwy i Białorusi – projekt trasy wycieczki. 19.05.2020

26.05.2020

1. Na Litwie i Białorusi przeważają niziny. Oba kraje charakteryzują się dużą powierzchnią lasów oraz gęstą siecią rzek, co sprzyja rozwojowi turystyki wodnej, rowerowej i pieszej.

2. Na terenie obu krajów znajduje się wiele zabytków, głównie zamków i pałaców


III. Wykonaj, tym razem **samodzielnie** dwa zadania:



- Ćw.3/90 w zeszytcie ćwiczeń - TYLKO odszukaj w diagramie nazwy miast (do pomocy mapki na stronach 145 i 146)
- Zaprojektuj 3 dniową wycieczkę autokarową po Litwie lub Białorusi. Spróbuj także nadać wycieczce nazwę (skorzystaj z podręcznika i Internetu).

PRZYKŁAD/WZÓR

Moje spotkanie z Bałkanami – 3 –dniowa wycieczka autokarowa po Albanii

Trasa: Tirana — Berat - Saranda

DATA	MIEJSCE	OBSERWOWANE SKŁADNIKI ŚRODOWISKA PRZYRODNICZEZGO I KULTUROWEGO
23.06.2020	Tirana stolica i największe miasto Albanii	<p>Zwiedzanie centrum miasta oraz jego zabytków: wstęp do głównego meczetu w Tiranie który znajduje się na głównym placu Skanderbega. Udamy się także do Twierdzy Kruja -gdzie można poczuć ducha orientu oraz zrobić zakupy na najstarszym bazarze w Albanii.</p>  <p>Twierdza Kruja</p> <p>Pobyt w Tiranie zakończymy zwiedzeniem Katedry Zmartwychwstania – katedry należącej do Albańskiego Kościoła Prawosławnego; jest to trzeci co do wielkości kościół prawosławny w Europie.</p>
24.06.2020	Berat- miasto tysiąca okien”	<p>Miasto wpisane na „Listę światowego dziedzictwa UNESCO”. Podziwiać tu można przepiękną zabytkową dzielnice „tysiąca okien”, starówkę położoną wysoko nad centrum, gdzie zachowały się fragmenty historycznej zabudowy pochodzącej z różnych czasów. W Cerkwi Matki Bożej aktualnie mieści się muzeum Onufrego, słynnego</p>

		<p>malarza ikon z XVI w. Z kolei Cerkiew Trójcy Świętej z XII/XIVw. to klasyczny przykład architektury bizantyjskiej.</p> 
<p>25.06.2020</p>	<p>Saranda-najstynniejszy kurort Albanii położony nad Morzem Jońskim</p>	<p>Jest tu piękna promenada z palmami, stanowiąca centrum kurortu, sklepiki i knajpki. Za niewielką kwotę można wypić znakomitą kawę i spróbować byrki – tradycyjnej albańskiej przekąski, rodzaju pieroga nafaszerowanego szpinakiem, serem lub mięsem. Wzdłuż nadmorskiej promenady ciągną się plaże - przeważnie żwirowe. Czas wolny na plażowanie.</p> 

Pozdrawiam i życzę twórczej pracy!

