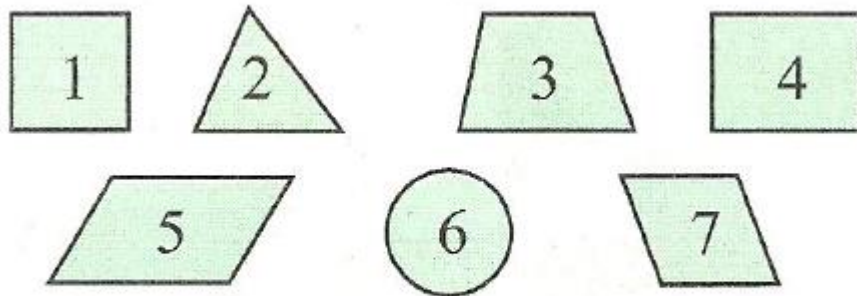


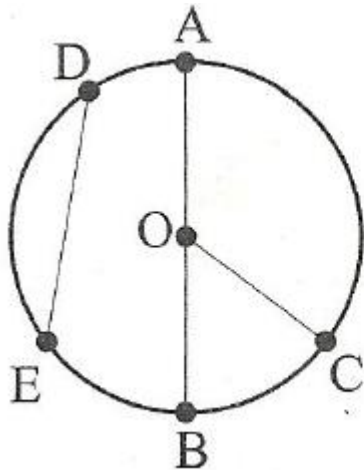
Temat: Figury na płaszczyźnie- powtórzenie. 4.06.2020 r

1. Wpisz cyfry oznaczające figury będące równoległobokami.



.....

2. Wpisz w odpowiednim miejscu nazwy odcinków: promień, średnica, cięciwa.

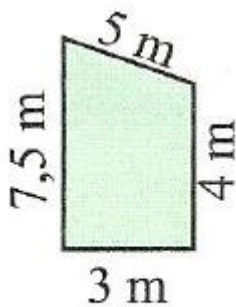


a)  $AB =$  .....

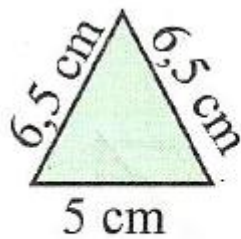
b)  $OC =$  .....

c)  $DE =$  .....

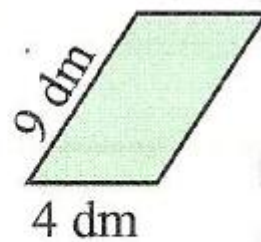
3. Pod każdą figurą napisz, ile wynosi jej obwód.



.....



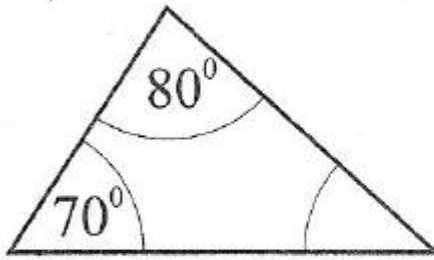
.....




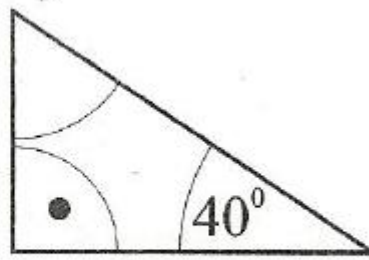
.....

4. Oblicz miarę trzeciego kąta trójkąta:

a)



b)



Termin realizacji: 4.06.2020 r  
Powodzenia.