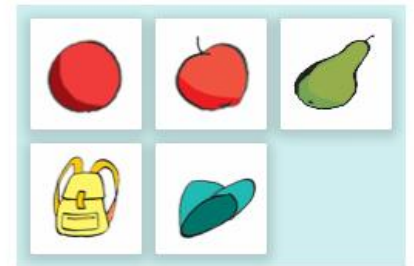
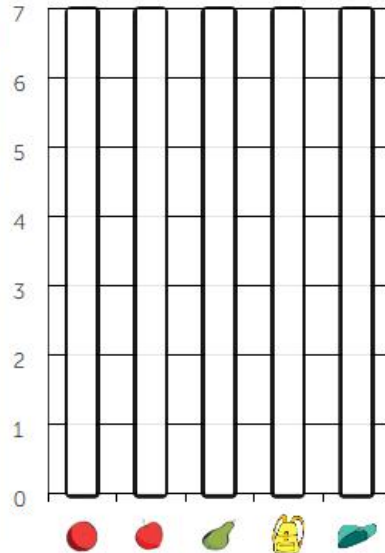


Temat: Liczymy i się nie mylimy. Ćwiczenia na osi liczbowej. 7.05

Nauczyciel: Renata Jakubowska

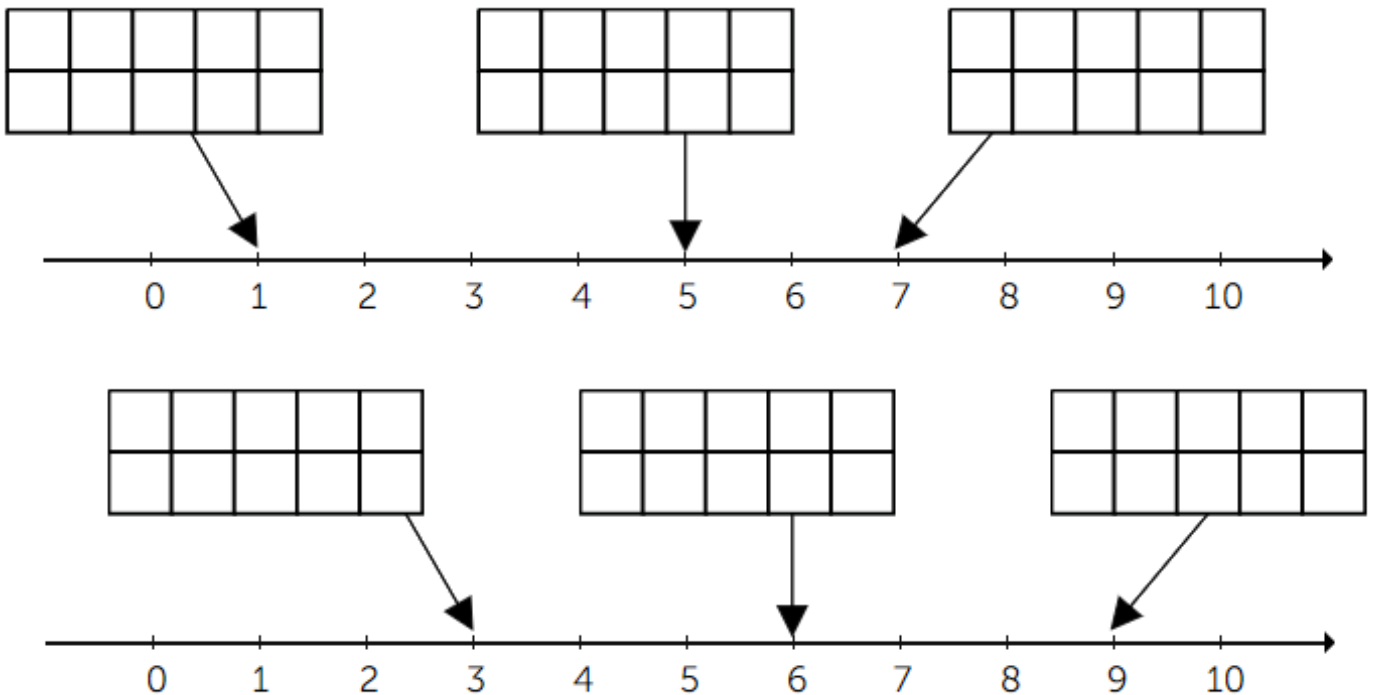
- 1. Policz na ilustracji przedmioty. Zaznacz ich liczbę kolorując kratki. Czego jest najwięcej, czego najmniej? Narysuj przedmioty w ramkach.**



najwięcej:

najmniej:

- 2. Zaznacz odpowiednią liczbę pól na osi liczbowej.**



3. Ile widzisz przedmiotów. Zaznacz odpowiednią liczbę.



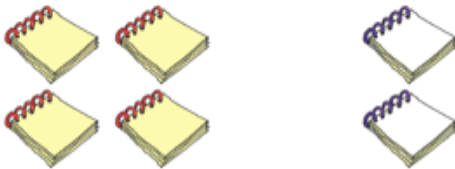
3 4 5 6 7 8 9



3 4 5 6 7 8 9

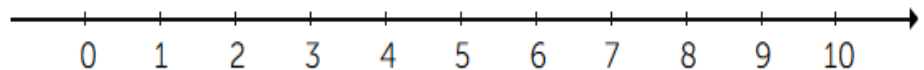
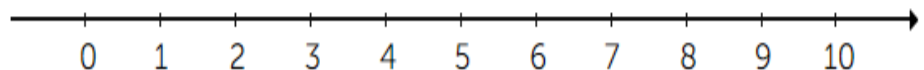
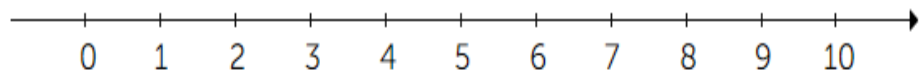
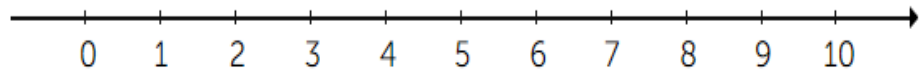



3 4 5 6 7 8 9




3 4 5 6 7 8 9











4. Ile jest przedmiotów? Zaznacz na osi liczbowej.



5. Ile w sumie jest kropek? Zaznacz odpowiednią liczbę.

		<input type="checkbox"/>	<input type="checkbox"/>	<input type="checkbox"/>	<input type="checkbox"/>	<input type="checkbox"/>	<input type="checkbox"/>	<input type="checkbox"/>
		<input type="checkbox"/>	<input type="checkbox"/>	<input type="checkbox"/>	<input type="checkbox"/>	<input type="checkbox"/>	<input type="checkbox"/>	<input type="checkbox"/>
		<input type="checkbox"/>	<input type="checkbox"/>	<input type="checkbox"/>	<input type="checkbox"/>	<input type="checkbox"/>	<input type="checkbox"/>	<input type="checkbox"/>
		<input type="checkbox"/>	<input type="checkbox"/>	<input type="checkbox"/>	<input type="checkbox"/>	<input type="checkbox"/>	<input type="checkbox"/>	<input type="checkbox"/>
		<input type="checkbox"/>	<input type="checkbox"/>	<input type="checkbox"/>	<input type="checkbox"/>	<input type="checkbox"/>	<input type="checkbox"/>	<input type="checkbox"/>

6. Ile brakuje kropek, aby było ich w sumie tyle, ile wskazuje liczba po lewej stronie? Zaznacz.

4			<input type="checkbox"/>	<input type="checkbox"/>	<input type="checkbox"/>	<input type="checkbox"/>	<input type="checkbox"/>	<input type="checkbox"/>
2			<input type="checkbox"/>	<input type="checkbox"/>	<input type="checkbox"/>	<input type="checkbox"/>	<input type="checkbox"/>	<input type="checkbox"/>
3			<input type="checkbox"/>	<input type="checkbox"/>	<input type="checkbox"/>	<input type="checkbox"/>	<input type="checkbox"/>	<input type="checkbox"/>
7			<input type="checkbox"/>	<input type="checkbox"/>	<input type="checkbox"/>	<input type="checkbox"/>	<input type="checkbox"/>	<input type="checkbox"/>
6			<input type="checkbox"/>	<input type="checkbox"/>	<input type="checkbox"/>	<input type="checkbox"/>	<input type="checkbox"/>	<input type="checkbox"/>

*Zadania pochodzą w programie Matematyka serii mTalent