

Nauczyciel: Renata Jakubowska

1. Ile ołówków jest w piórniku? Zaznacz odpowiednią liczbę.

Tu jest w sumie 5 ołówków.



1 2 3 4

Tu są w sumie 3 ołówki.



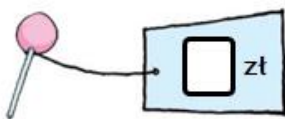
1 2 3 4

Tu są w sumie 4 ołówki.

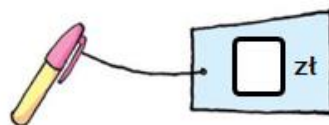


1 2 3 4

2. Wpisz w okienka, ile kosztują poszczególne rzeczy.



W sumie kosztują 5 zł.



W sumie kosztują 6 zł.



W sumie kosztują 4 zł.


3. Uzupełnij działanie, wpisując w okienka liczbę jabłek schowanych torbie.




$$3 + \boxed{7} = 10$$



$$4 + \boxed{} = 10$$



$$8 + \boxed{} = 10$$



$$5 + \boxed{} = 10$$



