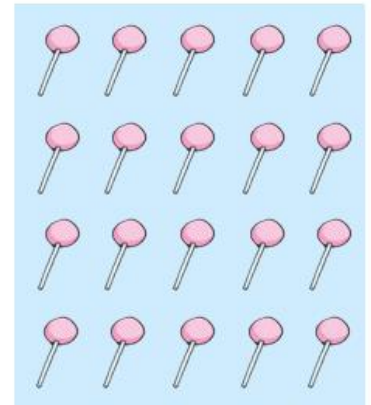



Temat: Przeliczenie elementów. Dodawanie w zakresie 20.

Nauczyciel: Renata Jakubowska


1. Dzieci podzieliły między sobą 20 lizaków. Ile lizaków dostanie każdy z nich?



Odpowiedź:

Każdy dostanie lizaki.

2. Połącz liczby od najmniejszej do największej.



3. Ile jest wszystkich filiżanek. Zapisz działanie.



Odpowiedź: Razem jest _____ filiżanek.

*Zadania pochodzą z programu Matematyka serii mTalent.